

<b>Time: 10 Minutes</b>	<b>Paper Math 2</b>	<b>Total Marks: 10</b>
-------------------------	---------------------	------------------------

6th Month, 2nd Week, 6th Day	<b>Syllabus:</b> Revision Test.
------------------------------	---------------------------------

**Q.1. Choose the correct option and fill in the blanks.**

درست جواب کا انتخاب کریں اور خالی جگہ پُر کریں۔

(i) Rectangle has \_\_\_\_\_ sides.

مستطیل کے اضلاع ہوتے ہیں۔

(a)	2	(b)	3	(c)	4	(d)	5
-----	---	-----	---	-----	---	-----	---

(ii) Square has \_\_\_\_\_ vertices.

مربع کے کونے ہوتے ہیں۔

(a)	2	(b)	4	(c)	6	(d)	3
-----	---	-----	---	-----	---	-----	---





(iii) Triangle has \_\_\_\_\_ sides.

مثلث کے اضلاع ہوتے ہیں۔

(a)	2	(b)	3	(c)	4	(d)	5
-----	---	-----	---	-----	---	-----	---

(iv) The shape of square is:

مربع کی شکل ہے:

(a)		(b)		(c)		(d)	
-----	--	-----	--	-----	--	-----	--

**Q.2. Write the short answers.**

مختصر جواب لکھیں۔

Q.1. What is the plural of side?

سائیڈ کی جمع کیا ہے؟

Q.2. What do you know about vertex?

ورٹیکس کے متعلق آپ کیا جانتے ہیں؟


Q.3. Do all the sides of square equal in length?

کیا مربع کی تمام لمبائیاں برابر ہوتی ہیں؟

**Q.3. Look at the 2-D shapes and fill in the blanks.**

2-D تصاویر کو دیکھیں اور خالی جگہ پُر کریں۔

My name is \_\_\_\_\_.



میرا نام \_\_\_\_\_ ہے۔

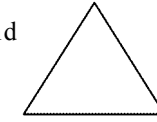
I have \_\_\_\_\_ sides and \_\_\_\_\_ vertices.

میرے \_\_\_\_\_ اضلاع اور \_\_\_\_\_ کونے ہیں۔

My all sides are equal in length.

میرے تمام اضلاع لمبائی میں برابر ہوتے ہیں۔

I have \_\_\_\_\_ sides and \_\_\_\_\_ vertices.



میرے \_\_\_\_\_ اضلاع اور \_\_\_\_\_ کونے ہیں۔

Who am I? \_\_\_\_\_

میں کون ہوں؟ \_\_\_\_\_

I am a rectangle.



میں مستطیل ہوں۔

I have \_\_\_\_\_ sides and \_\_\_\_\_ vertices.

میرے \_\_\_\_\_ اضلاع اور \_\_\_\_\_ کونے ہیں۔

---



---



---



---



---